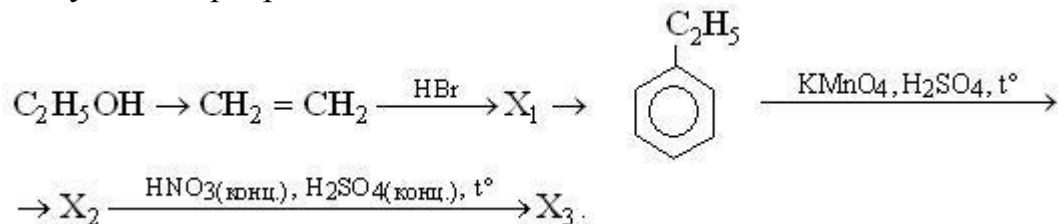
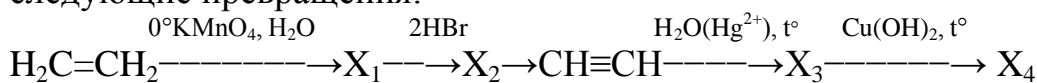


**Решить цепочки превращений**

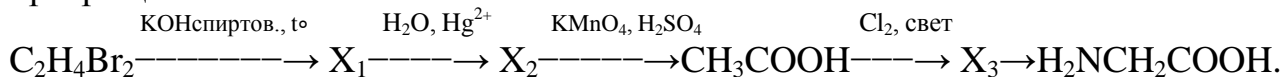
7. Напишите уравнения реакций, с помощью которых можно осуществить следующие превращения:



8. Напишите уравнения реакций, с помощью которых можно осуществить следующие превращения:



9. Напишите уравнения реакций, с помощью которых можно осуществить превращения:



**Формулы органических веществ писать в структурном виде.**